

Opgave 4 – Aarde: Het klimaat in Azië

Bestudeer bron 1 uit het bronnenboekje die bij deze opgave hoort.

Gebruik bron 1 en de atlas.

In de buurt van de meridiaan van 90 graden oosterlengte liggen van noord naar zuid de steden Norilsk, Ürümqi, Lhasa en Dhaka (zie atlaskaart 140).

In bron 1 staan vier klimaatgrafieken die horen bij deze vier steden.

- 2p **14** Noteer de letters a tot en met d uit bron 1 op je antwoordblad. Schrijf achter elke letter de naam van de juiste stad.

Gebruik de atlas.

In de wintermaanden valt er op het vasteland van Azië veel minder neerslag dan in de zomermaanden (zie kaartblad 139).

- 2p **15** Leg dit uit.
Je uitleg moet een oorzaak-gevolgrelatie bevatten.

Gebruik kaartblad 138-139.

In het westen van China valt het hele jaar door weinig neerslag.

- 2p **16** Geef hiervan twee oorzaken.

Gebruik de atlas.

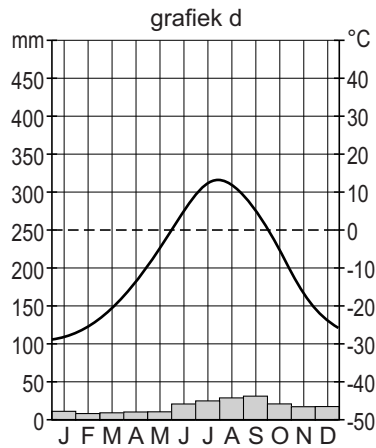
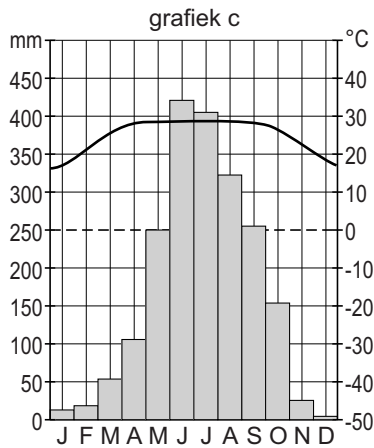
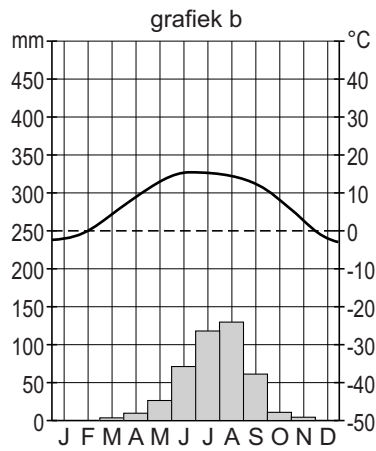
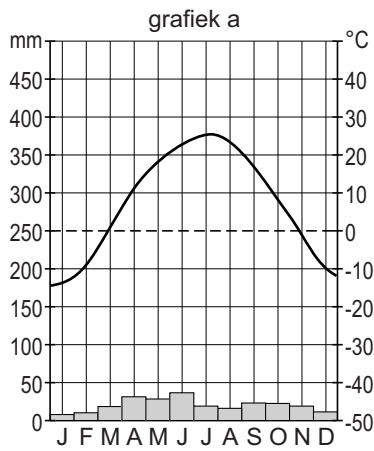
In het oosten van Rusland is het in de winter veel kouder dan in het westen van Rusland (zie atlaskaart 139B).

- 2p **17** Geef hiervan twee oorzaken.

Opgave 4 – Aarde: Het klimaat in Azië

bron 1

Vier klimaatgrafieken van plaatsen in Azië



Bronvermelding

Een opsomming van de in dit examen gebruikte bronnen, zoals teksten en afbeeldingen, is te vinden in het bij dit examen behorende correctievoorschrift, dat na afloop van het examen wordt gepubliceerd.